



historia • 5° básico

nombre.....
curso fecha

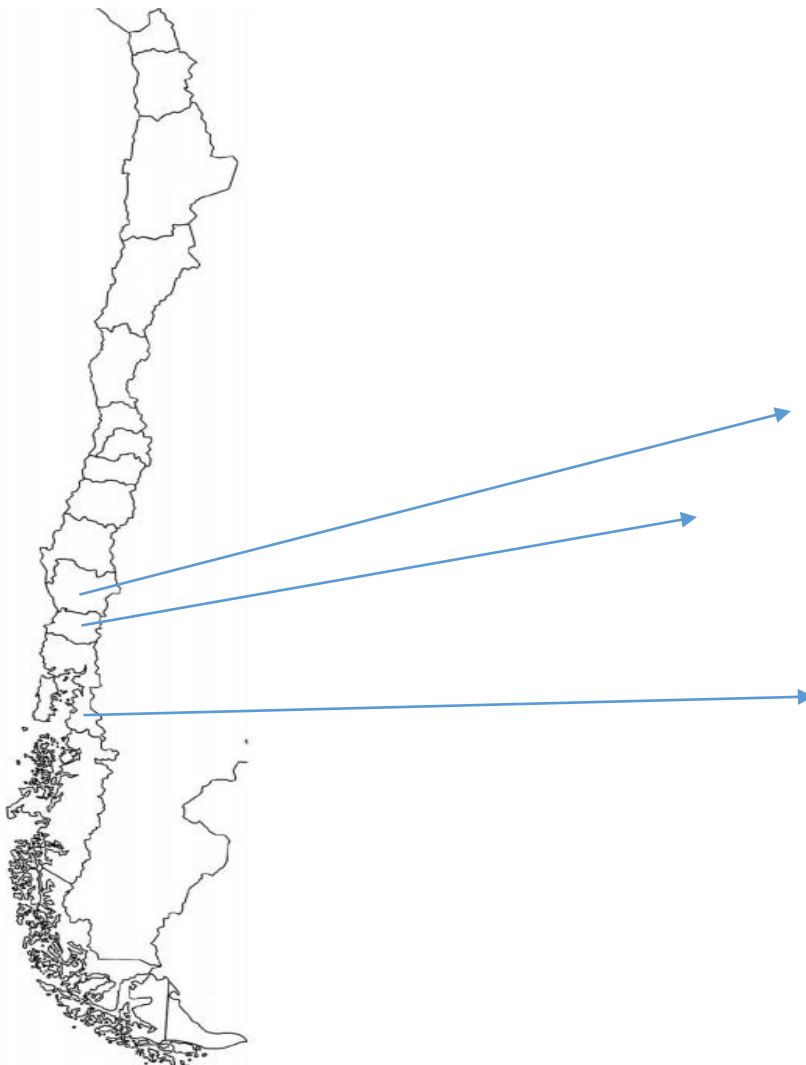
h

GUIA N° 4 <https://www.youtube.com/watch?v=jYM1InhKviQ>
<https://www.youtube.com/watch?v=ojMPG3VhEkU>

OA9 Caracterizar las grandes zonas de Chile y sus paisajes (Norte Grande, Norte Chico, Zona Central, Zona Sur y Zona Austral), considerando ubicación, clima (temperatura y precipitaciones), relieve, hidrografía, población y recursos naturales, entre otros.

ACTIVIDAD ZONA SUR

1. Pinte de color Verde el área donde se ubique la zona Sur del país Y NOMBRELAS





2. Consultando un mapa político-administrativo de Chile, anote las regiones que forman parte de esa zona. Señale el número en **el mapa** y escriba el nombre de la región a continuación.

IX: _____

XIV: _____

X: _____

3. Anote el nombre de las principales ciudades que se localizan en esta zona natural

IX: _____

XI: _____

X: _____

4. ¿Por qué cree que se denomina zona SUR a esta zona natural?

5. Identifica las siguientes imágenes y nombra a que ciudad se relaciona



1.- _____

2.- _____

3.- _____

4.- _____



6. Lee el siguiente documento que describe de la zona sur

La **zona Sur** se extiende desde el río Biobío hasta el golfo de Corcovado, al sur de la isla de Chiloé. Esta área presenta verdes e imponentes paisajes, que evidencian una importante biodiversidad, y en los que predominan volcanes, lagos y ríos..

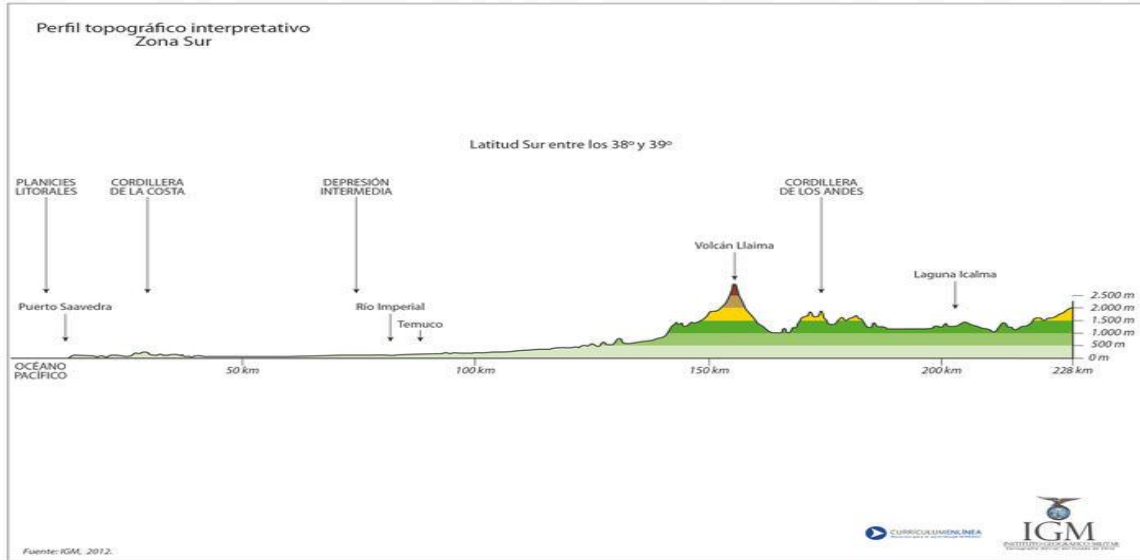
La **biodiversidad** en esta zona, favorecida por las condiciones climáticas, la vegetación es muy diversa y abundante. Existen bosques de especies adaptadas a la humedal, como raulíes, canelos, mañíos, robles, alerces, coigues y araucarias, acompañadas de especies más pequeñas, como helechos, lianas, musgos, quilas y nalcas. La fauna está compuesta por gran cantidad de aves, como el carpintero, águilas, bandurrias, chucaos y cóndores; y por diversas especies de mamíferos, como zorros, quiques, nutrias, huemules, pumas y pudúes. Los principales centros urbanos de esta zona son Temuco, Osorno y Puerto Montt. Parte de la población está vinculada a las actividades agrícolas, ganaderas y forestales. En esta zona se concentra gran parte de la población mapuche, residente tanto en comunidades rurales en las ciudades.

Los ríos en esta se caracterizan por su caudal y los principales son el Calle Calle, San Pedro, río Bueno, Petrohue, etc. Su clima es templado lluvioso entre otros climas predominantes en esa zona.






Relieve de la Zona Sur



7. Observa las fotografías: ¿Qué características de la zona sur puedes mencionar a partir de ellas?



Volcán Osorno (Zona Sur)



Respuesta: _____



8. Completa la tabla comparativa

Una tabla comparativa es una tabla de doble entrada que permite comparar una serie de elementos sobre la base de determinados criterios

Zona	Ubicación	Clima	Ciudades	Ríos	Act. Económicas	Elementos naturales
Zona Centro						
Zona Sur						

Mapa actualizado de Chile con la numeración y los nombres de cada región

